





# الطرح





الطرح هو عملية نفض عدد من عدد آخر.




 $=$ 

 $=$ 
**3**



المطروح منه - المطروح = النتيجة أو الباقي

مثال:  
 $5 - 2 = 3$   
 النتيجة المطروح المطروح منه

1 أعد الصور ثم اكتب جملة الطرح والنتيجة:


 $-$ 

 $=$


 $-$ 

 $=$


 $-$ 

 $=$

2 أحسب وأكتب النتيجة:

$5 - 1 =$       $8 - 4 =$       $7 - 2 =$    
 $6 - 2 =$       $9 - 5 =$       $6 - 3 =$    
 $7 - 3 =$       $10 - 6 =$       $9 - 4 =$

3 صل كل عملية طرح بنتيجتها الصحيحة:

$9 - 3$	•	<input type="checkbox"/>	2
$7 - 2$	•	<input type="checkbox"/>	4
$8 - 5$	•	<input type="checkbox"/>	3
$6 - 4$	•	<input type="checkbox"/>	5
$10 - 7$	•	<input type="checkbox"/>	7

4 أكمل الفراغ:

$5 -$ <input type="text"/> $= 2$	$10 -$ <input type="text"/> $= 4$
$8 -$ <input type="text"/> $= 3$	$6 -$ <input type="text"/> $= 2$
$7 -$ <input type="text"/> $= 1$	$9 -$ <input type="text"/> $= 5$

5 حل المسألة:

كان في السلة 7 برتقالات، أخذت منها 3 برتقالات.  
كم برتقالة بقيت في السلة؟

$7 - 3 =$

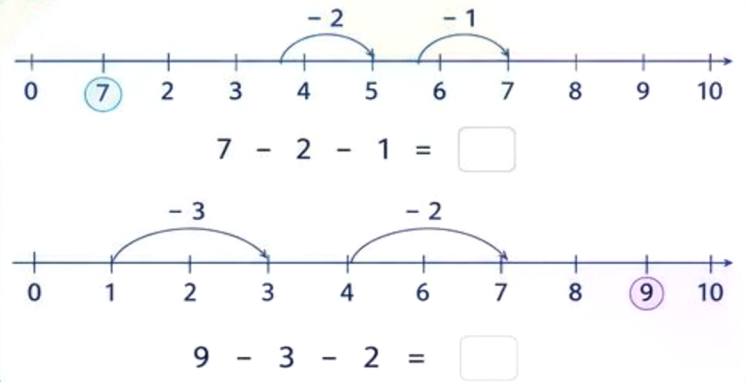
كان مع أحمد 9 أقلام، أعطى صديقه 4 أقلام.  
كم قلمًا بقي مع أحمد؟

$9 - 4 =$

في الحديقة 8 زهور، ذبل منها 2 زهرتان.  
كم زهرة بقيت في الحديقة؟

$8 - 2 =$

6 أكمل الأعداد الناقصة على خط الأعداد:



7 لُون ناتج الطرح الصحيح:

$8 - 3 =$	<input type="text"/>	<input type="text"/>	<input type="text"/>
$6 - 2 =$	<input type="text"/>	<input type="text"/>	<input type="text"/>
$9 - 4 =$	<input type="text"/>	<input type="text"/>	<input type="text"/>
$7 - 5 =$	<input type="text"/>	<input type="text"/>	<input type="text"/>



8 اكتب جملة الطرح المناسبة لكل موقف:

كان مع ليلى 10 تفاحات، أكلت 3 تفاحات.

$10 - 3 =$

كان في الصف 8 تلاميذ، خرج 2 تلميذين.

$8 - 2 =$

مع سامي 5 سيارات، أعطى أخاه سيارة واحدة.

$5 - 1 =$



أنت بطل!

حاول دائماً وستنجح بإذن الله.

