



# أكبر من - أصغر من



## تعلم

أكبر من



3 أكبر من 1

أصغر من



2 أصغر من 4


### 1 لون المجموعة الأكبر

لون المجموعة التي فيها عدد أكبر.



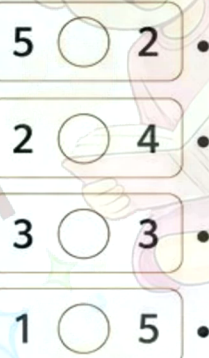
### 2 ضع إشارة (> أو <) في

ضع الإشارة المناسبة في ○.



### 3 أوصل بخط

أوصل كل مقارنة بالإشارة المناسبة.



أكبر من



أصغر من

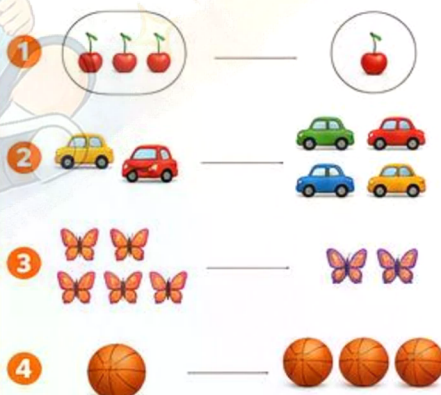
### 4 اختر الإجابة الصحيحة

اختر الإشارة الصحيحة.



### 5 أكمل الفراغ

اكتب أكبر من أو أصغر من.



### 6 ارسم بنفسك

ارسم مجموعتين من الأشياء.  
ارسم مجموعة فيها 3 أشياء.



وارسم مجموعة أخرى فيها 5 أشياء.



ارسم مجموعة فيها 4 أشياء.



وارسم مجموعة أخرى فيها 2 أشياء.

ساعد النحلة لتصل إلى الزهرة الأكبر من العدد الموجود على الطريق.



ممتاز

